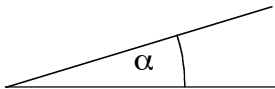
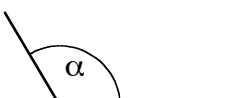
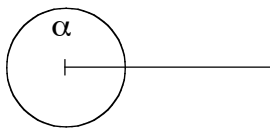


Winkelarten

1. Winkel werden nach ihrer Größe unterschieden. Fülle folgende Tabelle aus:

Bezeichnung	Darstellung	Gradmaß
		$\alpha = 0^\circ$
spitzer Winkel		
rechter Winkel		$0^\circ < \alpha < 90^\circ$
		
		$\alpha = 180^\circ$
überstumpfer Winkel		
		

2. Zeichne ein Dreieck ABC, dessen Innenwinkel β ein stumpfer Winkel ist. Was lässt sich über die (Größe der) Innenwinkel α und γ aussagen?
